

Решения задач районной олимпиады по математике РТ, ноябрь 2016
8 класс

Задача 1. Три пакета молока стоят на 4% дешевле, чем баночка кофе. На сколько процентов две таких же баночки кофе дороже (или дешевле) 5 пакетов молока?

Ответ. на 25%.

Решение. Пусть баночка кофе стоит 100 каких-то условных денежных единиц. Тогда три пакета молока обойдутся в 96 у.е., так что каждый стоит 32 у.е. Пять пакетов стоят 160 у.е., а две банки кофе – 200 у.е., что больше 160 у.е. на 40 единиц, то есть на $40/160 \cdot 100\% = 25\%$.

Критерии. Только ответ – 1 балл.

Задача 2. Натуральное число n называется *полусовершенным*, если сумма всех или некоторых делителей, меньших n , совпадает с этим числом. Например, число 12 – полусовершенное, так как его можно представить в виде суммы некоторых (не всех) его делителей: $12 = 1 + 2 + 3 + 6$. Будет ли число 2016 полусовершенным?

Ответ. Да.

Решение. Достаточно привести пример. Заметим, что 2016 делится на 12, $2016 = 12 \cdot 168$. Умножая равенство, данное в условии, на 168, получаем $2016 = 168 + 336 + 504 + 1008$.

Замечание. Несложно доказать, что любое число n , кратное 6, является полусовершенным. Действительно, если $n = 6k$, то число n можно представить в виде суммы его собственных делителей: $n = k + 2k + 3k$. Число 2016 кратно 6, поэтому его тоже можно представить в виде суммы делителей.

Критерии. Правильное представление числа 2016 в виде суммы его делителей — 7 баллов.

Задача 3. Можно ли записать в клетках таблицы 20×16 числа 5 и 9 так, чтобы в каждой строке и каждом столбце сумма чисел делилась на 21?

Ответ. Нет.

Решение. 1 способ. Предположим, что это возможно. Заметим, что 5 и 9 дают остатки 1 при делении на 4. Количество чисел в столбцах и строках кратно 4, поэтому и суммы в них кратны 4, то есть кратны 84. Заметим, что сумма в строке может принимать лишь значения, принадлежащие отрезку $[100; 180]$. Тогда она может быть равна лишь 168, а сумма всех чисел в таблице $168 \cdot 16 = 2688$. С другой стороны, сумма чисел в столбцах может принимать лишь значения, принадлежащие отрезку $[80; 144]$. Тогда она может быть равна лишь 84. Сумма всех чисел в таблице при этом будет $84 \cdot 20 = 1680$, что противоречит утверждению выше.

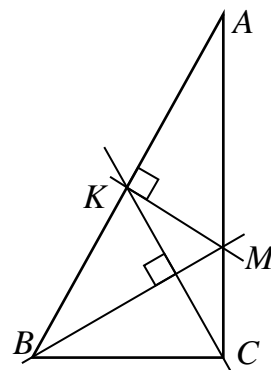
2 способ. Заполним столбец таблицы одними пятерками, сумма чисел в нем будет равна $5 \cdot 16 = 80$. Заменяя одну пятерку на девятку, мы увеличим сумму на 4. Значит, сумма может равняться 80, 84, 88, ..., 144, все числа кратны 4. Среди этих чисел на 21 делится только 84. Значит, в каждом столбце сумма чисел равна 84, а во всей таблице — $20 \cdot 84$. Аналогично сумма чисел в строке может принимать значения 100, 104, 108, ..., 180, на 21 среди этих чисел делится только 168, так что сумма во всей таблице равна $168 \cdot 16$. Результаты подсчета двумя способами не совпадают.

Критерии. Верное решение – 7 баллов; указана кратность 84 — 2 балла; указаны оба промежутка $[100; 180]$ и $[80; 144]$ — 1 балл.

Задача 4. У Маши есть бумажный прямоугольный треугольник ABC . Она сложила его по прямой линии так, что вершины острых углов A и B совпали, при этом линия сгиба пересекла сторону AB в точке K , а сторону AC – в точке M . Даша развернула треугольник и сложила его заново так, что вершина прямого угла C совпала с точкой K . При этом оказалось, что полученная линия сгиба пересекла сторону AC в точке M . Докажите, что линия сгиба у Даши проходила через вершину B .

Решение. Первый сгиб – это серединный перпендикуляр к стороне AB . Второй сгиб – это серединный перпендикуляр к медиане CK . По условию эти серединные перпендикуляры пересекаются в точке M на стороне AC , поэтому $MK = MC$. Значит, треугольник KMC – равнобедренный, и $\angle MKC = \angle MCK$. Тогда $\angle BKC = 90^\circ - \angle CKM = 90^\circ - \angle KCM = \angle BCK$, то есть треугольник BKC – равнобедренный. Отсюда следует, что серединный перпендикуляр к KC пройдет через вершину B .

Критерии. Если «доказательство» исходит из предположения, что второй сгиб проходит через точку B – 0 баллов.



Задача 5. На прямой отмечены несколько точек. Для любых двух из них найдется третья (тоже отмеченная), такая, что одна из этих трех точек является серединой отрезка между двумя другими.

- можно ли так отметить на прямой 5 точек?
- показать, что отмеченных точек не может быть ровно 4.

Решение обосновать.

Ответ. а) Да.

Решение. Будем рассматривать прямую как числовую и обозначать точки их координатами. Условие «одна из этих трех точек является серединой отрезка между двумя другими» означает, что три точки образуют арифметическую прогрессию, они равноотстоящие.

а) Покажем, что условию удовлетворяют точки 0, $1/3$, $1/2$, $2/3$, 1 или (что практически то же самое) 0, 2, 3, 4, 6. Действительно, числа 0, 2, 4, 6 образуют арифметическую прогрессию. Любая пара из них кроме (0, 6) входит в тройку (0, 2, 4) или (2, 4, 6). Пара (0, 6) входит в тройку (0, 3, 6). С другой стороны, точка 3 входит в прогрессии (0, 3, 6) и (2, 3, 4), которые содержат все пары с числом 3.

б) Пусть на прямой расставлено 4 точки, удовлетворяющие условию. Рассмотрим крайние из них. Можно считать, что это точки -1 и 1 . Тогда для пары $(-1, 1)$ третьей точкой может служить только середина отрезка между ними, то есть точка 0. Куда можно поставить четвертую точку? Пусть для определенности она соответствует положительному числу x (случай отрицательного числа рассматривается аналогично). Пары $(x, 1)$ должна в качестве третьей соответствовать точка, лежащая левее x , ею может быть только 0. Значит, $x = 1/2$. С другой стороны, паре $(-1, 1/2)$ может соответствовать либо $-1/4$ (середина отрезка), либо $1/2 + (1/2 - (-1)) = 2$. Но эти точки не являются отмеченными. Значит, четверки точек, удовлетворяющей условиям, не существует.

Критерии. За полное решение части а) 3 балла. За приведенный ответ без объяснений – 1 балл. За полное решение части б) 4 балла.

Решения задач районной олимпиады по математике РТ, ноябрь 2016

9 класс

Задача 1. Маша выбрала натуральное число. Айрат сложил один из его делителей с числом 5, полученное число увеличил в 6 раз и результат вычел из числа, предложенного Машей. Получилось число 7. Какое число выбрала Маша?

Ответ. 43 или 259.

Решение. Обозначим Машино число через m , а ее делитель – через p . Айрат проделал следующие действия с числом p : $p \rightarrow p + 5 \rightarrow 6(p + 5) \rightarrow m - 6(p + 5)$, последнее выражение равно 7. Получили уравнение $m - 6p = 37$. Но число p – делитель m , значит, оно является также делителем числа 37, то есть $p = 1$ или $p = 37$. Отсюда число $m = 6p + 37$ равно $6 \cdot 1 + 37 = 43$ или $6 \cdot 37 + 37 = 259$.

Критерии. Полностью верное решение с обоснованием – 7 баллов; верный ответ (указаны оба числа) без обоснования – 1 балл; обоснованно получен только один из ответов – 3 балла.

Задача 2. Пусть a — корень уравнения $x^3 - x - 1 = 0$. Найдите уравнение третьей степени с целыми коэффициентами, корнем которого является число a^3 .

Ответ. $x^3 - 3x^2 + 2x - 1 = 0$.

Решение. Введем обозначение $a^3 = t$. Требуется составить кубическое уравнение, корнем которого является число t . Поскольку a — решение уравнения, для него выполняется равенство $a^3 = a + 1$. Имеем $a = t - 1$, подставим это выражение в исходное уравнение. Получим $(t - 1)^3 - (t - 1) - 1 = 0$, что после упрощения приводится к виду $t^3 - 3t^2 + 2t - 1 = 0$.

Критерии. Если при подстановке $a = a^3 - 1$ в исходное уравнение допущена вычислительная ошибка, снимается 1 балл.

Задача 3. На доске записаны числа $1, \frac{1}{2}, \dots, \frac{1}{100}$. Разрешается стереть любые два числа a, b и написать вместо них одно число $\frac{ab}{a+b}$. Так поступают до тех пор, пока на доске не останется одно число. Какие значения может принимать это число?

Ответ. $\frac{1}{5050}$

Решение. Подпишем под каждым числом обратное к нему, и то же будем делать с преобразованными числами. Если $a = \frac{1}{k}, b = \frac{1}{m}$, то $\frac{ab}{a+b} = \frac{1}{k+m}$. Итак, после указанного преобразования обратные значения складываются, то есть в конце, независимо от порядка выбора пар, в списке обратных окажется число $1 + 2 + \dots + 100 = 5050$. Тогда соответствующее ему число в первой строке окажется число $1/5050$.

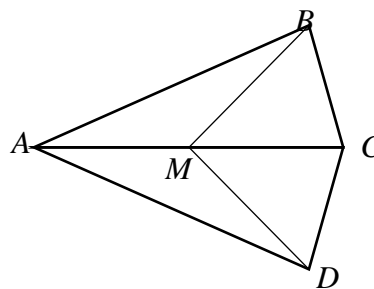
Критерии. Если рассмотрен только один порядок применения действий, причем без обоснования – 0 баллов. Если ответ для частного случая доказан (например, с помощью метода математической индукции) – 3 балла. Полное решение – 7 баллов.

Задача 4. Точка M внутри выпуклого четырехугольника $ABCD$ такова, что площади треугольников ABM, BCM, CDM и DAM равны. Верно ли, что $ABCD$ – параллелограмм, а точка M – точка пересечения его диагоналей? Решение обосновать.

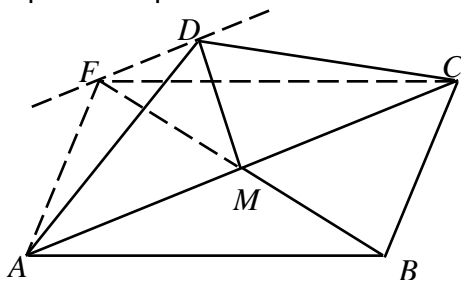
Ответ. Нет.

Решение. Построим пример искомого четырехугольника.

1 способ. Рассмотрим треугольник ABC , BM – его медиана. Она делит треугольник на части одинаковой площади. Отразим точку B симметрично относительно прямой AC , получим точку D . По построению треугольники BCM и DCM равны, следовательно, их площади совпадают. То же верно для треугольников AMD и ABD .



Проверим, является ли четырехугольник $ABCD$ параллелограммом. Если да, то должно выполняться равенство $BC = AD$, что равносильно $BC = AB$. Значит, если исходный треугольник ABC не равнобедренный, то четырехугольник $ABCD$ – не параллелограмм.



2 способ. Рассмотрим параллелограмм $ABCF$, M – точка пересечения его диагоналей. Площади треугольников ABM , BCM , CFM и FAM равны. Сдвинем теперь точку F параллельно диагонали AC , получим некоторую точку D . Всегда можно выбрать ее так, чтобы четырехугольник оставался выпуклым. В треугольниках CFM и CDM общее основание CM и одинаковые высоты,

значит, их площади равны. То же верно и для треугольников FAM и DAM . Значит, четырехугольник $ABCD$ – искомый. В силу того, что точка D не лежит на прямой CF , сторона CD не параллельна AB , так что $ABCD$ – не параллелограмм.

Заметим, что четырехугольник, построенный первым способом – частный случай второго решения. Он получается из параллелограмма «переворачиванием» треугольника AFC и прикладыванием его к той же диагонали. В этом случае $CD = AF$ и $AD = CF$, тогда треугольники CFM и CDM равны, так же, как и треугольники FAM и DAM .

Критерии. Пример с полным объяснением – 7 баллов. Если не показано, что четырехугольник – не параллелограмм, 5 баллов.

Задача 5. В квадрате 8×8 расположены четыре точки. Докажите, что среди них можно выбрать две точки, расстояние между которыми не превосходит $\sqrt{65}$.

Ответ.

Решение. Разделим квадрат 8×8 на три прямоугольника размерами 4×7 , 4×7 и 1×8 . Расстояния между любыми двумя точками внутри каждого прямоугольника по теореме Пифагора не превосходит $\sqrt{4^2 + 7^2} = \sqrt{1^2 + 8^2} = \sqrt{65}$. Из четырёх данных точек, по крайней мере, две попадут в один из этих прямоугольников, и поэтому расстояние между ними будет не более $\sqrt{65}$.

Критерии. Разбиение прямоугольника на части с полным объяснением – 7 баллов.

Решения задач районной олимпиады по математике РТ, ноябрь 2016 10 класс

Задача 1. Всегда ли из 2016 отрезков можно выбрать 3 таких, из которых можно сложить треугольник?

Ответ. Нет, не всегда.

Решение. Из трех отрезков можно составить треугольник тогда и только тогда, когда наибольший из них по длине меньше, чем сумма длин двух других. Рассмотрим отрезки с длинами $1, 2, 4, 8, \dots, 2^{2015}$. Пусть $k > l > m$ — степени двойки. В силу целочисленности имеем $l \leq k - 1, m \leq k - 2$. Тогда $2^k = 2^{k-1} + 2^{k-1} > 2^l + 2^m$.

В качестве примера можно приводить и другие наборы быстрорастущих чисел, например, последовательность Фибоначчи $1, 1, 2, 3, 5, \dots, x_n = x_{n-1} + x_{n-2}$.

Критерии. Приведен пример без объяснений – 0 баллов. Если, кроме того, указано, что все тройки должны удовлетворять неравенству треугольника – 3 балла. Полное доказательство для предьявленного примера – 7 баллов.

Задача 2. Число a — корень уравнения $x^{11} + x^7 + x^3 = 1$. При каких натуральных значениях n выполняется равенство $a^4 + a^3 = a^n + 1$?

Ответ. $n = 15$.

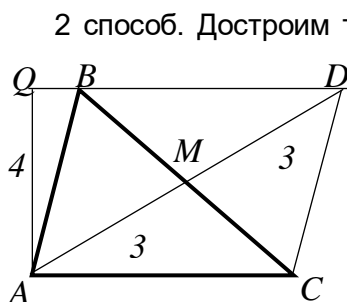
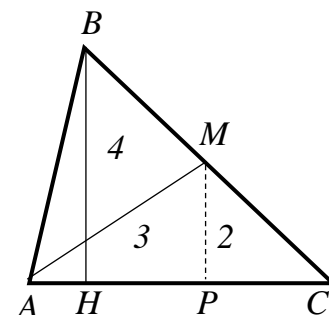
Решение. Для корня уравнения выполняется равенство $a^{11} + a^7 + a^3 = 1$, или $a^3(a^8 + a^4 + 1) = 1$. В скобках находится неполный квадрат суммы. Умножим равенство на $(a^4 - 1)$, получим $a^3(a^{12} - 1) = a^4 - 1$. Это равенство можно переписать в виде $a^4 + a^3 = a^{15} + 1$. Сравнивая полученное равенство с искомым, получаем, что $a^{15} = a^n$ или $a^{n-15} = 1$. Если показатель степени не равен 0, то последнее равенство выполняется только при $a = 1$. Но единица не является корнем уравнения $x^{11} + x^7 + x^3 = 1$. Значит, $n - 15 = 0$.

Критерии. Показано, что $a^4 + a^3 = a^{15} + 1$, но не доказано, что n не может принимать других значений – 5 баллов. Полное решение – 7 баллов.

Задача 3. Известно, что в остроугольном треугольнике ABC медиана, проведенная из вершины A , равна 3, а высота, опущенная из вершины B , равна 4. Может ли сторона AC иметь длину 5?

Ответ. Не может.

Решение. 1 способ. Пусть BH — высота треугольника ABC . Отметим, что для остроугольного треугольника точка H лежит между вершинами A и C . Из точки M опустим перпендикуляр MP на сторону AC ; по построению $MP \parallel BH$, так что MP — средняя линия треугольника BHC , $MP = 2$ и P — середина HC . Тогда $AP > HP = PC$, и значит, $AC < 2AP = 2\sqrt{3^2 - 2^2} = 2\sqrt{5}$. Но последнее число меньше 5.



2 способ. Достроим треугольник ABC до параллелограмма $ABDC$, и пусть AQ — его высота, проведенная из точки A к стороне BD . Отрезок AQ перпендикулярен прямым BD и AC , так что он равен высоте треугольника ABC , опущенной из вершины B . Поскольку угол BAC — острый, сторона $BD = AC$ меньше, чем QD .

Но по теореме Пифагора $QD = \sqrt{6^2 - 4^2} = \sqrt{20}$, что меньше 5.

Замечание. Существуют и другие решения задачи.

Критерии. Проведен расчет длины AP , QD или аналогичного отрезка без учета того, что угол A острый – 5 баллов.

Задача 4. На доске записаны числа $1, \frac{1}{2}, \dots, \frac{1}{100}$. Разрешается стереть любые два числа a, b и написать вместо них одно число $ab + a + b$. Так поступают до тех пор, пока на доске не останется одно число. Какие значения может принимать это число?

Ответ. 100.

Решение. Подпишем под каждым числом a число $a + 1$, и то же будем делать с преобразованными числами. Имеем $(ab + a + b) + 1 = (a + 1)(b + 1)$. Итак, после указанного преобразования «подписанные числа» перемножаются, то есть в конце, независимо от порядка выбора пар, во второй строке окажется число

$$(1 + 1) \left(1 + \frac{1}{2}\right) \dots \left(1 + \frac{1}{100}\right) = 2 \cdot \frac{3}{2} \cdot \frac{4}{3} \cdot \dots \cdot \frac{101}{100} = 101.$$

Соответствующее ему число в первой строке будет на единицу меньше.

Заметим, что результат можно легко угадать, если выполнять действия последовательно, $(1, 1/2) \rightarrow 2$, $(2, 1/3) \rightarrow 3$, $(3, 1/4) \rightarrow 4$, ... Но по условию порядок действий не фиксирован.

Критерии. Если рассмотрен только один порядок применения действий, причем без обоснования — 0 баллов. Если ответ для частного случая доказан (например, с помощью метода математической индукции) — 3 балла. Полное решение — 7 баллов.

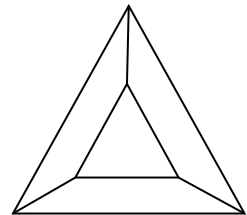
Задача 5. Расположим на плоскости выпуклые многоугольники так, чтобы каждые два из них имели общую сторону.

а) приведите пример четырех таких многоугольников

б) покажите, что больше четырех многоугольников так расположить не удастся.

Решение. а) Например, многоугольники можно расположить, как показано на рисунке.

б) Предположим, что существует хотя бы 5 таких многоугольников. Рассмотрим один из них, P_0 . Кроме него существуют еще как минимум 4 многоугольника, каждый примыкает к одной из сторон P_0 . Пронумеруем эти стороны против часовой стрелки: Многоугольник P_k имеет с P_0 общую сторону номер k . Каждая такая сторона лежит на прямой, прямая делит плоскость на две полуплоскости, в одной из которых находится P_0 , в другой (назовем ее π_k) — P_k .



Рассмотрим прямые с номерами 1 и 3. Они пересекаются либо в π_2 , либо в π_4 . Пусть для определенности в π_2 . Тогда многоугольник P_2 лежит внутри треугольника, образованного прямыми 1, 2 и 3 и не может иметь общих точек с многоугольником P_4 . Для случая, когда прямые 1 и 3 параллельны треугольник можно заменить соответствующей полуполосой.

Замечание. Требуемое свойство вытекает также из известной теоремы теории графов. Выберем внутри каждого многоугольника точку. Если два многоугольника имеют общую сторону, то соединим соответствующие точки отрезком. Ясно, что эти отрезки не пересекаются. Если многоугольников не менее 5, получим полный граф 5-го порядка. Но этот граф, как известно, не планарный (не вкладывается в плоскость без пересечения ребер). Противоречие.

Критерии. Приведен пример в пункте а) — 2 балла. За полное решение пункта б) — 5 баллов. За решение пункта б) *только* для пяти многоугольников — 3 балла.

Решения задач районной олимпиады по математике РТ, ноябрь 2016

11 класс

Задача 1. Решите систему уравнений:
$$\begin{cases} x^2 + x + y^2 + y = 4 \\ \frac{1}{x} + \frac{1}{y} = -2 \end{cases}$$

Ответ. $(\frac{1+\sqrt{5}}{2}; \frac{-3+\sqrt{5}}{2}), (\frac{1-\sqrt{5}}{2}; \frac{-3-\sqrt{5}}{2}), (\frac{-3+\sqrt{5}}{2}; \frac{1+\sqrt{5}}{2}), (\frac{-3-\sqrt{5}}{2}; \frac{1-\sqrt{5}}{2})$.

Решение. Ясно, что x и y не обращаются в 0. При этом условии второе уравнение можно переписать в виде $x + y = -2xy$, а первое после замены суммы $x + y$ равным ему слагаемым $-2xy$ приобретает вид $x^2 - 2xy + y^2 = 4$ или $(x - y)^2 = 4$. Рассмотрим два случая.

1) $\begin{cases} x - y = 2 \\ 2xy + x + y = 0 \end{cases}$. Из первого уравнения выражаем $y = x - 2$ и подставляем во второе. Полученное уравнение $2x(x - 2) + 2x - 2 = 0$ после упрощения сводится к $x^2 - x - 1 = 0$. Его корнями будут $x = \frac{1 \pm \sqrt{5}}{2}$, соответствующие значения y равны $\frac{-3 \pm \sqrt{5}}{2}$.

2) $\begin{cases} x - y = -2 \\ 2xy + x + y = 0 \end{cases}$. Первое уравнение можно переписать в виде $y - x = 2$, так что эта система отличается от предыдущей только переобозначением переменных x и y .

Критерии. Если разобран только один из двух случаев – 3 балла, за полное решение – 7 баллов.

Задача 2. Что больше: $(2016!)^{2015!}$ или $(2015!)^{2016!}$? (Через $n!$ обозначается произведение $1 \cdot 2 \cdot \dots \cdot n$.)

Ответ. Второе число больше.

Решение. Обозначим $2015!$ через N , тогда $2016! = 2016 \cdot N$. Два заданных числа в этих обозначениях принимают вид $(2016N)^N = 2016^N \cdot N^N$ и $N^{2016N} = (N^{2016})^N$. Чтобы узнать, какое из чисел больше, поделим второе из них на первое. Частное будет равно

$$\frac{(N^{2016})^N}{2016^N \cdot N^N} = \left(\frac{N^{2016}}{2016N}\right)^N = \left(\frac{N^{2015}}{2016}\right)^N.$$

Ясно, что N^{2015} гораздо больше, чем 2016, так что эта дробь больше 1.

Критерии. Только ответ – 0 баллов.

Задача 3. Найдите решение в простых числах p, q уравнения $2^{2p} - 2^p + 1 = q$.

Ответ. $p = 2, q = 13$.

Решение. Покажем, что при нечетных p левая часть делится на 3. Имеем

$$2^{2p} - 2^p + 1 = 4^p - 2^p + 1 = (3 + 1)^p - (3 - 1)^p + 1.$$

Раскрывая скобки в первых двух слагаемых, получим слагаемые, содержащие степени 3, кроме свободных членов. Свободные члены в сумме равны $1^p - (-1)^p + 1$.

Если p — четно, то $p = 2$ и $2^{2p} - 2^p + 1 = 13$ — простое число. Если же p — нечетно, то $1^p - (-1)^p + 1 = 3$, так что левая часть делится на 3. Она может быть простым числом только тогда, когда в точности равна 3. Заметим, что при $p > 2$ имеем $2p > p + 2$, так что левая часть больше, чем $2^{(p+2)} - 2^p + 1 = 3 \cdot 2^p + 1 > 13$, так что она не может быть простым числом.

Замечание. Факт делимости на 3 можно установить и перебором. Заметим, что число 4^p всегда имеет остаток 1 при делении на 3, а числа 2^p , то есть 2, 4, 8, ... имеют поочередно остатки 2 и 1. В частности, при нечетных p числа 2^p имеют остаток 2, а все выражение, соответственно, при делении на 3 дает остаток $1 - 2 + 1 = 0$.

Критерии. Только ответ без обоснования единственности – 0 баллов. Если не указано, что правая часть не может быть равна 3 — снимается 1 балл.

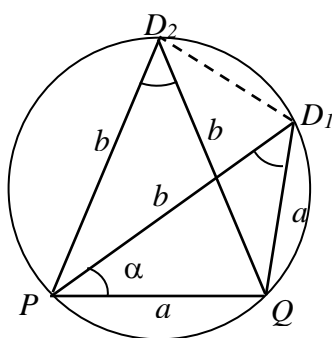
Задача 4. В основании треугольной пирамиды $ABCD$ лежит правильный треугольник ABC , кроме того, $AD = BC$. Все плоские углы при вершине D равны между собой. Чему могут быть равны эти углы?

Ответ. 60° или 36° .

Решение. Обозначим длину ребра BC через a , а углы при вершине D – через α . Треугольники CDA и BDA равнобедренные и равны между собой. Значит, $CD = BD = b$ и треугольник BDC также равнобедренный, но угол α у него расположен при вершине.

Итак, две боковые грани – равнобедренные треугольники со сторонами a, a и b и с углом α при основании, а третья – также равнобедренный треугольник со сторонами a, b и b с углом α при вершине.

Если $a = b$, то эти треугольники правильные и угол при вершине равен 60° .



Пусть теперь $a \neq b$. Заметим, что в обоих треугольниках сторона a видна под углом α . Если совместить равные стороны треугольников (на рисунке это отрезок PQ), третьи вершины будут лежать на одной и той же окружности. Мы видим, что треугольник PD_1D_2 равнобедренный с боковой стороной b , причем он вписан в ту же окружность, что и треугольник PQD_2 . Значит, эти треугольники равны между собой (для доказательства можно, например, заметить, что равные хорды стягивают равные дуги). Значит, угол $\angle P = \angle Q = 2\alpha$, а сумма углов треугольника PQD_1 составляет 5α .

Следовательно, α равно $180^\circ/5$.

Заметим, что во втором случае пирамида получается «сильно скошенной». Вершина D проецируется на плоскость основания на ось симметрии треугольника ABC , но вне него, с другой стороны от точки A .

Критерии. Найдено решение 60° – 1 балла. Указано, что возможно еще одно решение, но расчет не доведен до числа – еще 3 балла. Полное решение – 7 баллов.

Задача 5. Пусть x, y, z — положительные числа, и $xyz = 1$. Докажите неравенство:

$$x + y + z \leq \frac{x}{y} + \frac{y}{z} + \frac{z}{x}.$$

Решение. Оценим каждое из положительных чисел x, y и z с помощью неравенства о среднем арифметическом и геометрическом. По условию $xyz = 1$, поэтому

$$x = \sqrt[3]{\frac{x^3}{xyz}} = \sqrt[3]{\frac{x}{y} \cdot \frac{y}{z} \cdot \frac{z}{x}} \leq \frac{1}{3} \left(\frac{x}{y} + \frac{y}{z} + \frac{z}{x} \right).$$

Аналогичные неравенства запишем для переменных y и z :

$$y \leq \frac{1}{3} \left(\frac{y}{z} + \frac{z}{x} + \frac{x}{y} \right) \text{ и } z \leq \frac{1}{3} \left(\frac{z}{x} + \frac{x}{y} + \frac{y}{z} \right).$$

Складывая эти неравенства, получим неравенство:

$$x + y + z \leq \frac{1}{3} \left(\frac{2x}{y} + \frac{y}{z} + \frac{2y}{z} + \frac{z}{x} + \frac{2z}{x} + \frac{x}{y} \right),$$

которое легко приводится к требуемому.

Критерии. Доказано неравенство $x \leq \frac{1}{3} \left(\frac{x}{y} + \frac{y}{z} + \frac{z}{x} \right)$, или равносильное ему – 2 балла. Полное решение – 7 баллов.